

NOMBRE:

FECHA:

Tema 1. CONTROL DE MATEMÁTICAS.

1. Calcula

1.300	9.880	9.888	1.009
7.444	9.090	7.887	9.999
<u>$+9.999$</u>	<u>$+6.666$</u>	<u>$+9.999$</u>	<u>$+6.666$</u>
6.660	8.760	6.887	9.774
<u>$- 1.770$</u>	<u>$- 5.000$</u>	<u>$- 6.097$</u>	<u>$- 885$</u>

2. Escribe con letras:

8.080 : _____

56.103: _____

3. Ordena estas cantidades de menor a mayor:


400, 82.179, 21.088, 6.201, 2.500

_____, _____, _____, _____, _____.

4. Completa la serie.

<i>200</i>	<i>210</i>	<i>220</i>									

5. Escribe las tablas de 2 y del 3.





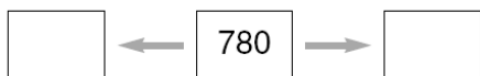
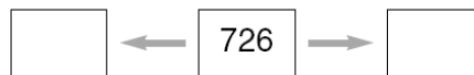

6. Realiza la descomposición de estos números.

4.560: _____

3.600: _____

498 : _____

7. Realiza la descomposición de estos números.



8. En un cine hay 5 niños. Salen 3 y entran después 6 niños. ¿Cuántos niños hay al final?

Solución. _____

9. Luís tenía 5 canicas, Ricardo tiene 6 canicas y Rafael 6. ¿Cuántas tienen entre los tres?

Solución. _____

10. Inventa un problema que se resuelva con esta operación: $50-12=$
Resuelve el problema y escribe el resultado.

Solución. _____