

CUADERNO DE REFUERZO DE MATEMÁTICAS 4º E.P.



Nombre:

Fecha:

2° TRIMESTRE. MATEMÁTICAS

A. Realiza las siguientes sumas

$$\begin{array}{r} 11.687 \\ + 25.772 \\ \hline \end{array}$$

$$\begin{array}{r} 21.872 \\ + 54.181 \\ \hline \end{array}$$

$$\begin{array}{r} 22.900 \\ + 89.154 \\ \hline \end{array}$$

$$\begin{array}{r} 84.818 \\ + 62.029 \\ \hline \end{array}$$

$$\begin{array}{r} 69.043 \\ + 81.126 \\ \hline \end{array}$$

$$\begin{array}{r} 36.573 \\ + 42.443 \\ \hline \end{array}$$

$$\begin{array}{r} 28.909 \\ + 29.363 \\ \hline \end{array}$$

$$\begin{array}{r} 32.754 \\ + 39.249 \\ \hline \end{array}$$

$$\begin{array}{r} 14.184 \\ + 74.328 \\ \hline \end{array}$$

$$\begin{array}{r} 66.557 \\ + 28.494 \\ \hline \end{array}$$

B. Realiza las siguientes restas.

$$\begin{array}{r} 872.734 \\ - 635.862 \\ \hline \end{array}$$

$$\begin{array}{r} 923.683 \\ - 812.698 \\ \hline \end{array}$$

$$\begin{array}{r} 949.504 \\ - 694.278 \\ \hline \end{array}$$

$$\begin{array}{r} 893.608 \\ - 326.837 \\ \hline \end{array}$$

$$\begin{array}{r} 503.094 \\ - 335.124 \\ \hline \end{array}$$

$$\begin{array}{r} 358.263 \\ - 164.505 \\ \hline \end{array}$$

$$\begin{array}{r} 985.226 \\ - 612.692 \\ \hline \end{array}$$

$$\begin{array}{r} 797.535 \\ - 555.452 \\ \hline \end{array}$$

$$\begin{array}{r} 990.658 \\ - 474.837 \\ \hline \end{array}$$

$$\begin{array}{r} 970.639 \\ - 714.172 \\ \hline \end{array}$$

C. Realiza las siguientes multiplicaciones.

$$\begin{array}{r} 787.268 \\ \times 940 \\ \hline \end{array}$$

$$\begin{array}{r} 311.435 \\ \times 347 \\ \hline \end{array}$$


$$\begin{array}{r} 506.213 \\ \times 893 \\ \hline \end{array}$$

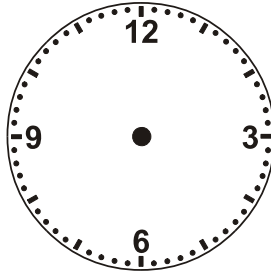
$$\begin{array}{r} 295.673 \\ \times \quad 357 \\ \hline \end{array}$$

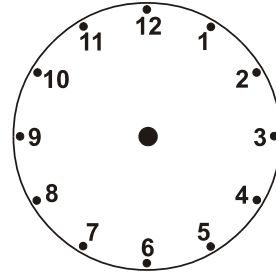
$$\begin{array}{r} 715.385 \\ \times \quad 925 \\ \hline \end{array}$$

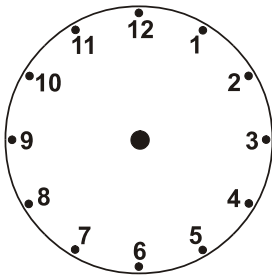
$$\begin{array}{r} 733.237 \\ \times \quad 891 \\ \hline \end{array}$$

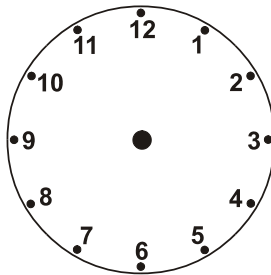
D. *Escribe o dibuja la hora según corresponda en cada reloj.*














E. *Compara estos números. Añade: > , < o =*

$705806 \quad \underline{\quad} \quad 500424$

$376407 \quad \underline{\quad} \quad 311242$

$997580 \quad \underline{\quad} \quad 398957$

$350275 \quad \underline{\quad} \quad 349702$

$452950 \quad \underline{\quad} \quad 724172$

$904790 \quad \underline{\quad} \quad 602964$

$603385 \quad \underline{\quad} \quad 499494$

$450163 \quad \underline{\quad} \quad 293039$

$490796 \quad \underline{\quad} \quad 621094$

F. *Continúa estas series*

47, 42, 37, 32, 27, 22, 17, _____

14, 21, 28, 35, 42, 49, 56, _____

79, 71, 63, 55, 47, 39, 31, _____

G. *Escribe el anterior y el posterior*

_____ 7.669 _____ _____ 8.556 _____ _____ 5.236 _____

_____ 2.765 _____ _____ 9.453 _____ _____ 3.581 _____

_____ 2.210 _____ _____ 7.577 _____ _____ 8.417 _____

H. *Escribe cómo se leen estos números*

165.289 _____

595.080 _____

167.820 _____

38.365 _____

240.491 _____

293.285 _____

669.178 _____

I. Realiza las siguientes divisiones. Haz al lado las pruebas

$$42.772 \overline{) 44}$$

$$75.870 \overline{) 81}$$

$$3.628 \overline{) 29}$$

$$2.797 \overline{) 82}$$

J. Escribe el valor posicional de las letras marcadas.

$$\underline{7}.735 = \underline{\hspace{2cm}}$$

$$5.\underline{1}49 = \underline{\hspace{2cm}}$$

$$22.5\underline{8}5 = \underline{\hspace{2cm}}$$

$$213.\underline{3}2\underline{4} = \underline{\hspace{2cm}}$$

$$759.\underline{0}57 = \underline{\hspace{2cm}}$$

$$72.\underline{1}84 = \underline{\hspace{2cm}}$$

$$26.\underline{9}90 = \underline{\hspace{2cm}}$$

$$\underline{8}10.432 = \underline{\hspace{2cm}}$$

$$\underline{8}68 = \underline{\hspace{2cm}}$$

$$150.\underline{8}1\underline{7} = \underline{\hspace{2cm}}$$

K. Ordena de menor a mayor estos números

893.392

891.813

857.009

801.360

824.810

887.179

827.788

814.300

840.019

862.281

807.810

801.521

L. *Escribe cómo se leen estos números*

763.785 _____

383.617 _____

44.294 _____

528.021 _____

427.656 _____

M. *Realiza las siguientes multiplicaciones.*

$$\begin{array}{r} 689.120 \\ \times 149 \\ \hline \end{array}$$

$$\begin{array}{r} 530.467 \\ \times 365 \\ \hline \end{array}$$

$$\begin{array}{r} 827.856 \\ \times 552 \\ \hline \end{array}$$

$$\begin{array}{r} 180.885 \\ \times 527 \\ \hline \end{array}$$

$$\begin{array}{r} 530.925 \\ \times 634 \\ \hline \end{array}$$

$$\begin{array}{r} 964.631 \\ \times 902 \\ \hline \end{array}$$

N. *Realiza las siguientes sumas*

$$\begin{array}{r} 98.188 \\ + 24.783 \\ \hline \end{array}$$

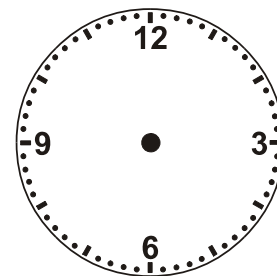



$$\begin{array}{r} 56.728 \\ + 92.388 \\ \hline \end{array}$$

$$\begin{array}{r} 72.632 \\ + 64.196 \\ \hline \end{array}$$

$$\begin{array}{r} 46.052 \\ + 57.109 \\ \hline \end{array}$$

$$\begin{array}{r} 91.178 \\ + 17.516 \\ \hline \end{array}$$

O. Escribe o dibuja la hora según corresponda en cada reloj.



P. Escribe el anterior y el posterior

_____ 4.233 _____

_____ 6.040 _____

_____ 2.345 _____

_____ 9.233 _____

_____ 1.944 _____

_____ 5.750 _____

_____ 2.325 _____

_____ 2.170 _____

_____ 1.954 _____

Q. Realiza las siguientes divisiones. Haz al lado las pruebas

$$68.616 \overline{) 82}$$

$$79.400 \overline{) 24}$$

$$49.883 \overline{) 33}$$

$$16.962 \overline{) 83}$$

R. Suma en horizontal

$278 + 410 = \underline{\quad}$

$333 + 266 = \underline{\quad}$

$882 + 113 = \underline{\quad}$


$509 + 320 = \underline{\quad}$

$695 + 101 = \underline{\quad}$

$613 + 301 = \underline{\quad}$


$602 + 202 = \underline{\quad}$


$293 + 505 = \underline{\quad}$

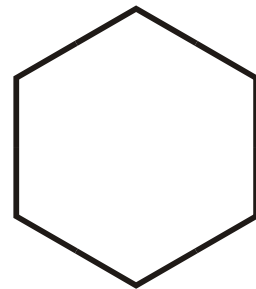


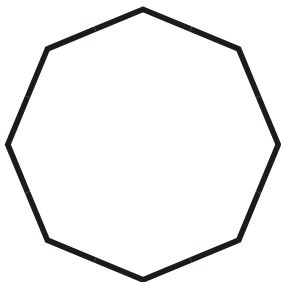
¿Qué fracción de los dibujos son soles?

S. Escribe el nombre de estos polígonos.













T. Realiza las siguientes restas.

$$\begin{array}{r} 932.223 \\ - 693.751 \\ \hline \end{array}$$

$$\begin{array}{r} 776.100 \\ - 471.318 \\ \hline \end{array}$$

$$\begin{array}{r} 383.352 \\ - 204.647 \\ \hline \end{array}$$

$$\begin{array}{r} 651.414 \\ - 444.820 \\ \hline \end{array}$$

$$\begin{array}{r} 712.259 \\ - 296.641 \\ \hline \end{array}$$

$$\begin{array}{r} 703.792 \\ - 516.482 \\ \hline \end{array}$$

$$\begin{array}{r} 455.502 \\ - 131.157 \\ \hline \end{array}$$

$$\begin{array}{r} 249.224 \\ - 212.085 \\ \hline \end{array}$$

$$\begin{array}{r} 574.268 \\ - 360.488 \\ \hline \end{array}$$

$$\begin{array}{r} 837.129 \\ - 387.098 \\ \hline \end{array}$$

U. Multiplicaciones en horizontal.

$18 \times 7.000 = \underline{\hspace{2cm}}$

$78 \times 50 = \underline{\hspace{2cm}}$

$63 \times 4.000 = \underline{\hspace{2cm}}$

$35 \times 400 = \underline{\hspace{2cm}}$

$39 \times 50 = \underline{\hspace{2cm}}$

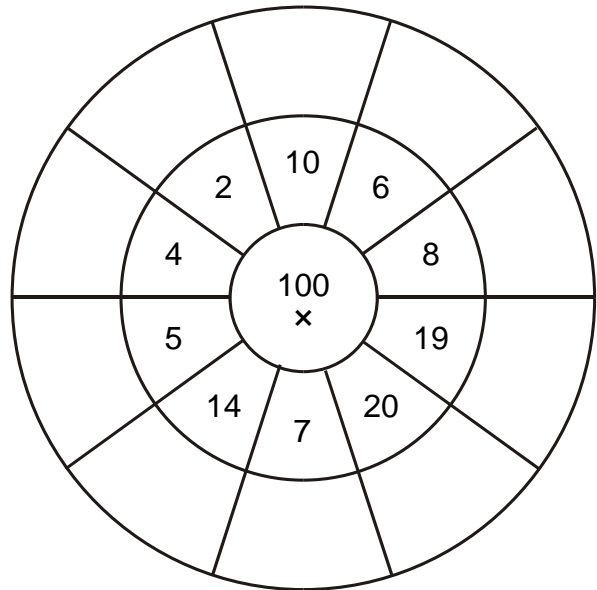
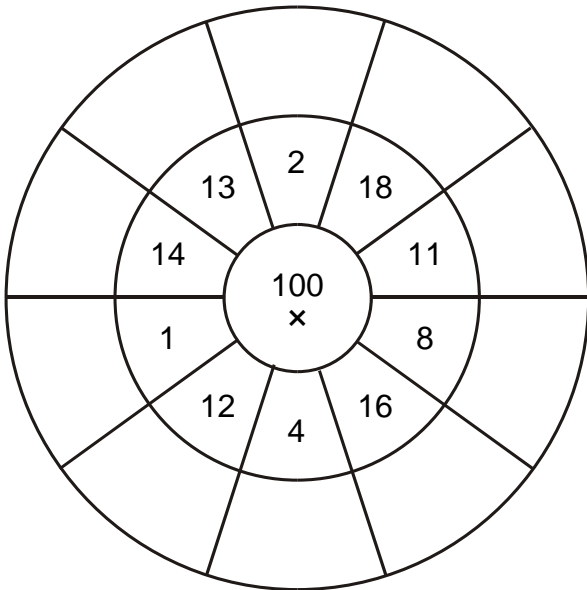
$41 \times 40 = \underline{\hspace{2cm}}$

$49 \times 700 = \underline{\hspace{2cm}}$

$81 \times 80 = \underline{\hspace{2cm}}$

$63 \times 900 = \underline{\hspace{2cm}}$

V. Multiplicación por la unidad seguida de ceros.



W. *Continúa estas series*

22, 27, 32, 37, 42, 47, 52, _____

45, 43, 41, 39, 37, 35, 33, _____

92, 85, 78, 71, 64, 57, 50, _____

X. *Ordena de menor a mayor estos números*

718.887

782.172

749.557

708.230

715.516

716.509

730.479

700.908

724.414

791.261

733.472

731.719

Y. *Escribe cómo se leen estos números*

995.703 _____

844.148 _____

753.080 _____

379.604 _____

866.833 _____

85.729 _____

268.186 _____

Z. *Escribe las monedas o billetes que necesitamos para formar estas cantidades*



€27,24 _____

€3,74 _____

€20,57 _____

€48,09 _____

A. Escribe el valor de cada moneda y suma las cantidades.



B. Escribe las monedas o billetes que necesitamos para formar estas cantidades


€0,09 _____

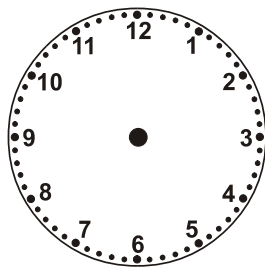
€0,44 _____

€0,02 _____


€0,70 _____

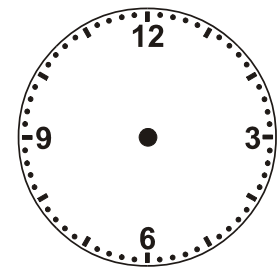
C. Escribe o dibuja la hora según corresponda en cada reloj.





3:38





12:48

D. Escribe el anterior y el posterior

_____ 2.365 _____

_____ 7.454 _____

_____ 3.434 _____

_____ 7.398 _____

_____ 4.333 _____

_____ 2.425 _____

E. Realiza las siguientes sumas

$$\begin{array}{r} 58.118 \\ + 86.833 \\ \hline \end{array}$$

$$\begin{array}{r} 51.214 \\ + 99.951 \\ \hline \end{array}$$

$$\begin{array}{r} 78.119 \\ + 86.786 \\ \hline \end{array}$$

$$\begin{array}{r} 19.510 \\ + 52.932 \\ \hline \end{array}$$

$$\begin{array}{r} 36.628 \\ + 58.782 \\ \hline \end{array}$$

$$\begin{array}{r} 96.373 \\ + 84.713 \\ \hline \end{array}$$

$$\begin{array}{r} 44.413 \\ + 41.643 \\ \hline \end{array}$$

$$\begin{array}{r} 53.046 \\ + 31.822 \\ \hline \end{array}$$

$$\begin{array}{r} 35.949 \\ + 73.802 \\ \hline \end{array}$$

$$\begin{array}{r} 90.918 \\ + 60.707 \\ \hline \end{array}$$

F. Realiza las siguientes divisiones. Haz al lado las pruebas

$$96.037 \overline{) 77}$$

$$19.572 \overline{) 30}$$

$$55.812 \overline{) 97}$$

$$16.315 \overline{) 60}$$

G. Realiza las siguientes restas.

$$\begin{array}{r} 935.741 \\ - 800.009 \\ \hline \end{array}$$

$$\begin{array}{r} 682.050 \\ - 423.570 \\ \hline \end{array}$$

$$\begin{array}{r} 416.468 \\ - 184.613 \\ \hline \end{array}$$

$$\begin{array}{r} 631.601 \\ - 212.443 \\ \hline \end{array}$$

$$\begin{array}{r} 994.251 \\ - 757.328 \\ \hline \end{array}$$

$$\begin{array}{r} 504.210 \\ - 378.925 \\ \hline \end{array}$$

$$\begin{array}{r} 902.395 \\ - 254.196 \\ \hline \end{array}$$

$$\begin{array}{r} 843.798 \\ - 168.843 \\ \hline \end{array}$$

$$\begin{array}{r} 519.647 \\ - 320.965 \\ \hline \end{array}$$

$$\begin{array}{r} 417.545 \\ - 163.009 \\ \hline \end{array}$$

H. Realiza las siguientes multiplicaciones.

$$\begin{array}{r} 351.330 \\ \times \quad 63 \\ \hline \end{array}$$

$$\begin{array}{r} 213.017 \\ \times \quad 805 \\ \hline \end{array}$$

$$\begin{array}{r} 412.960 \\ \times \quad 10 \\ \hline \end{array}$$

$$\begin{array}{r} 347.190 \\ \times \quad 595 \\ \hline \end{array}$$

$$\begin{array}{r} 411.208 \\ \times \quad 625 \\ \hline \end{array}$$

$$\begin{array}{r} 358.908 \\ \times \quad 193 \\ \hline \end{array}$$

$$\begin{array}{r} 784.908 \\ \times \quad 718 \\ \hline \end{array}$$

$$\begin{array}{r} 983.981 \\ \times \quad 123 \\ \hline \end{array}$$

$$\begin{array}{r} 184.248 \\ \times \quad 550 \\ \hline \end{array}$$

I. *Escribe el anterior y el posterior*

_____ 1.424 _____

_____ 9.650 _____

_____ 1.351 _____

_____ 9.288 _____

_____ 4.025 _____

_____ 7.299 _____

_____ 4.660 _____

_____ 8.912 _____

_____ 5.900 _____

J. *Compara estos números. Añade: > , < o =*

528037 _____ 185109

501753 _____ 193813

308187 _____ 601474

110945 _____ 345572

530393 _____ 524392

880039 _____ 784619

277189 _____ 496949

151151 _____ 280317

K. *Escribe el valor posicional de las letras marcadas.*

670 = _____

75.992 = _____

9.495 = _____

50.072 = _____

911.507 = _____

38.603 = _____

433.277 = _____

5.365 = _____

5.468 = _____

7.564 = _____

L. *Ordena de menor a mayor estos números*

835.050

825.870

833.311

829.770

875.899

825.781

847.580

843.013

803.013

844.668

838.831

857.679

M. *Escribe cómo se leen estos números*

924.693 _____

417.185 _____

564.329 _____

917.040 _____

120.541 _____

82.555 _____

208.836 _____

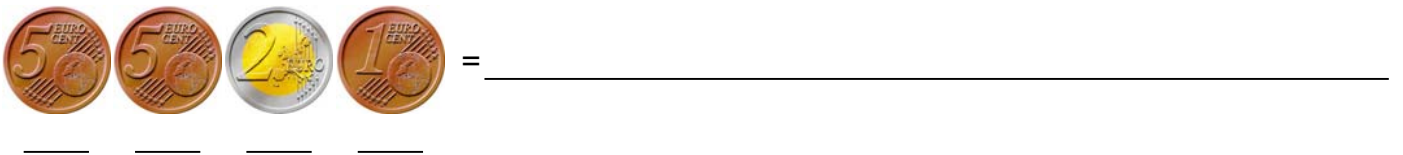
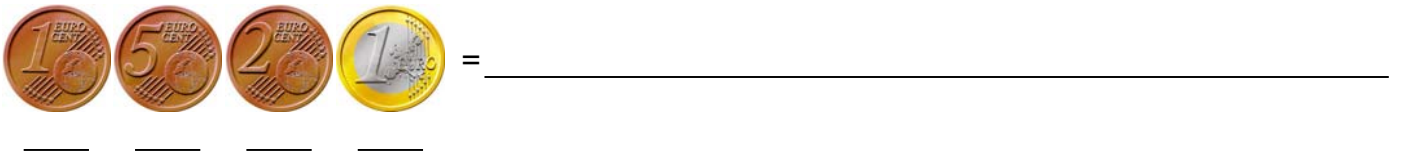
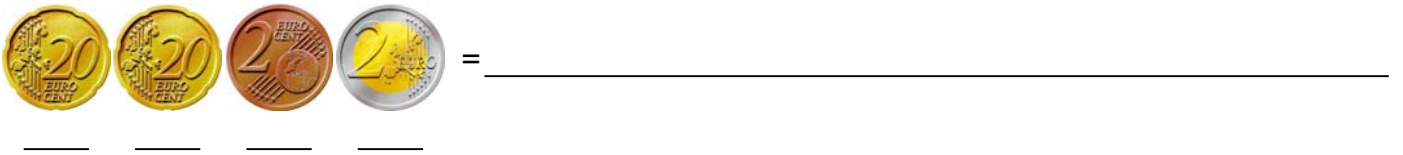
N. *Continúa estas series*

14, 16, 18, 20, 22, 24, 26, _____

27, 33, 39, 45, 51, 57, 63, _____

89, 82, 75, 68, 61, 54, 47, _____

O. *Escribe el valor de cada moneda y suma las cantidades.*



P. *Escribe las monedas o billetes que necesitamos para formar estas cantidades*


€96,81 _____

€5,43 _____

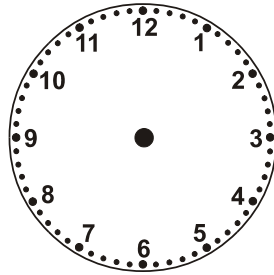
€17,37 _____

€7,39 _____



Q. *Escribe o dibuja la hora según corresponda en cada reloj.*



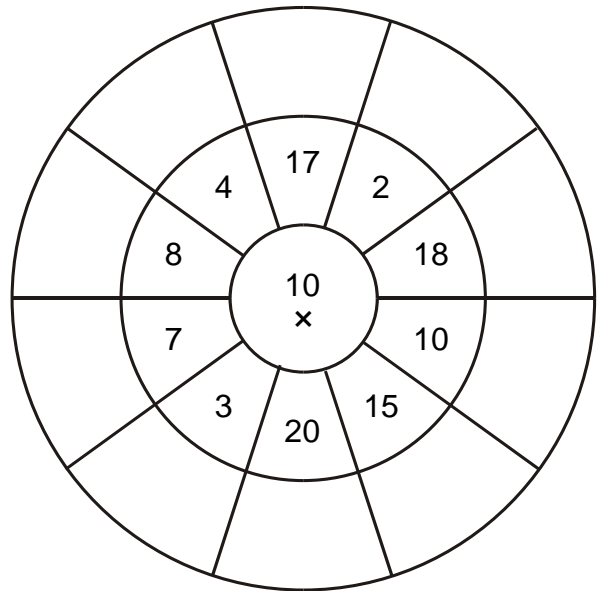
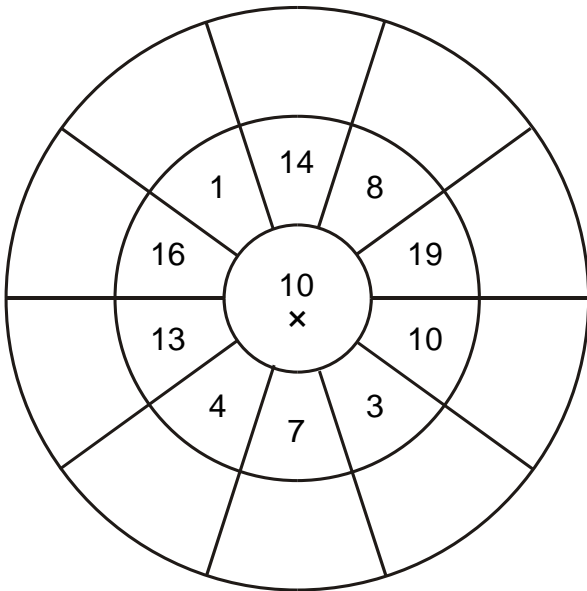
1:21



10:46



R. *Multiplicación por la unidad seguida de ceros.*



S. *Escribe el anterior y el posterior*

_____ 6.983 _____

_____ 3.883 _____

_____ 5.909 _____

_____ 8.526 _____

_____ 4.841 _____

_____ 1.799 _____

_____ 1.140 _____

_____ 1.084 _____

_____ 8.920 _____

T. Realiza las siguientes sumas

$$\begin{array}{r} 50.033 \\ + 33.589 \\ \hline \end{array}$$

$$\begin{array}{r} 55.904 \\ + 81.025 \\ \hline \end{array}$$

$$\begin{array}{r} 14.881 \\ + 72.550 \\ \hline \end{array}$$

$$\begin{array}{r} 20.826 \\ + 96.047 \\ \hline \end{array}$$

$$\begin{array}{r} 71.600 \\ + 42.751 \\ \hline \end{array}$$

$$\begin{array}{r} 17.606 \\ + 85.164 \\ \hline \end{array}$$

$$\begin{array}{r} 28.035 \\ + 29.026 \\ \hline \end{array}$$

$$\begin{array}{r} 82.964 \\ + 54.320 \\ \hline \end{array}$$

$$\begin{array}{r} 24.971 \\ + 10.269 \\ \hline \end{array}$$

$$\begin{array}{r} 43.628 \\ + 37.247 \\ \hline \end{array}$$

U. Realiza las siguientes divisiones. Haz al lado las pruebas

$$8.571 \overline{) 57} \underline{\hspace{2cm}}$$

$$47.291 \overline{) 78} \underline{\hspace{2cm}}$$

$$30.975 \overline{) 22} \underline{\hspace{2cm}}$$

$$51.489 \overline{) 24} \underline{\hspace{2cm}}$$

V. Realiza las siguientes multiplicaciones.

$$\begin{array}{r} 425.090 \\ \times \quad 34 \\ \hline \end{array}$$

$$\begin{array}{r} 391.169 \\ \times \quad 437 \\ \hline \end{array}$$

$$\begin{array}{r} 662.367 \\ \times \quad 724 \\ \hline \end{array}$$

$$\begin{array}{r} 848.662 \\ \times \quad 867 \\ \hline \end{array}$$

$$\begin{array}{r} 317.834 \\ \times \quad 285 \\ \hline \end{array}$$

$$\begin{array}{r} 967.520 \\ \times \quad 50 \\ \hline \end{array}$$

$$\begin{array}{r} 416.194 \\ \times \quad 35 \\ \hline \end{array}$$

$$\begin{array}{r} 287.765 \\ \times \quad 189 \\ \hline \end{array}$$

$$\begin{array}{r} 305.409 \\ \times \quad 574 \\ \hline \end{array}$$

W. Realiza las siguientes restas.

$$\begin{array}{r} 655.112 \\ - 295.058 \\ \hline \end{array}$$

$$\begin{array}{r} 403.716 \\ - 101.086 \\ \hline \end{array}$$

$$\begin{array}{r} 405.411 \\ - 284.256 \\ \hline \end{array}$$

$$\begin{array}{r} 996.807 \\ - 558.730 \\ \hline \end{array}$$

$$\begin{array}{r} 963.024 \\ - 870.409 \\ \hline \end{array}$$

$$\begin{array}{r} 383.630 \\ - 146.886 \\ \hline \end{array}$$

$$\begin{array}{r} 764.781 \\ - 515.748 \\ \hline \end{array}$$

$$\begin{array}{r} 788.905 \\ - 664.264 \\ \hline \end{array}$$

$$\begin{array}{r} 614.508 \\ - 418.305 \\ \hline \end{array}$$

$$\begin{array}{r} 339.263 \\ - 297.146 \\ \hline \end{array}$$

X. *Escribe las monedas o billetes que necesitamos para formar estas cantidades*

€30,70 _____

€66,24 _____

€21,59 _____

€60,14 _____

Y. *Compara estos números. Añade: > , < o =*

361420 ___ 854422 292423 ___ 110746 915369 ___ 818402 603481 ___ 565405

238386 ___ 109652 395144 ___ 889040 952310 ___ 303796 599215 ___ 617243

Z. *Continúa las series*

De 5 en 5 empezando por el 44

--	--	--	--	--	--	--	--	--	--

De 3 en 3 empezando por el 90

--	--	--	--	--	--	--	--	--	--

De 4 en 4 descontando desde el 510

--	--	--	--	--	--	--	--	--	--