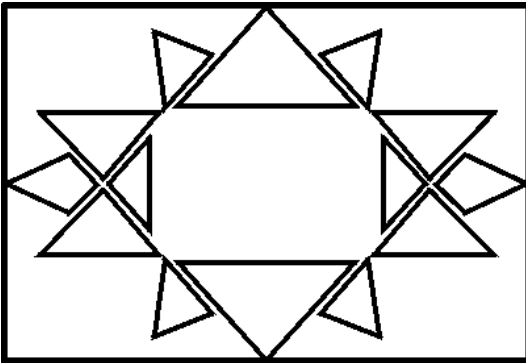


TRIÁNGULOS

ESTUDIA



Clasificación de los triángulos según los lados.


EQUILÁTERO- todos los lados miden lo mismo.

ISÓSCELES- dos lados miden igual y uno distinto.

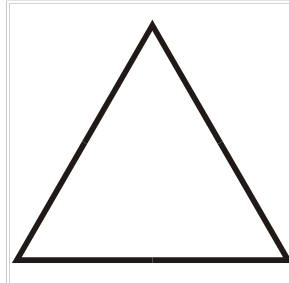
ESCALENO- ningún lado mide igual.

Escribe el nombre de estos triángulos. Según sus lados.

1.



2.



3.



Clasificación de los TRIÁNGULOS según los ÁNGULOS.

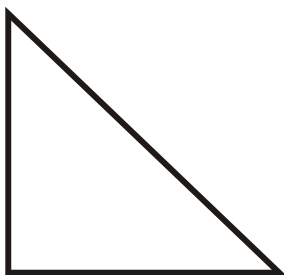
RECTÁNGULO- tiene un ángulo recto.

ACUTÁNGULO- tiene dos ángulos agudos.


OBTUSÁNGULO-tiene un ángulo obtuso.

Escribe el nombre de estos triángulos según sus ángulos.

4.



5.



6.