

# LOS POLÍGONOS

## ESTUDIA

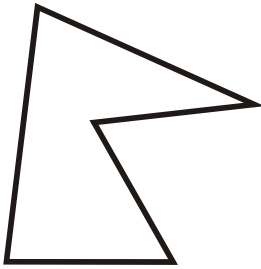


Clasificación de los polígonos según número de lados:

- 3 lados--- TRIÁNGULO
- 4 lados--- CUADRILÁTERO
- 5 lados--- PENTÁGONO
- 6 lados--- HEXÁGONO
- 7 lados--- HEPTÁGONO
- 8 lados--- OCTÓGONO
- 9 lados--- ENEÁGONO
- 10 lados--DECÁGONO

ESCRIBE EL NOMBRE DE ESTOS POLÍGONO. CUENTA PARA ELLO EL NÚMERO DE LADOS.

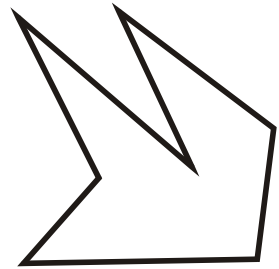
1.



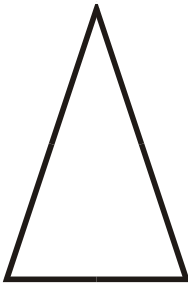
2.



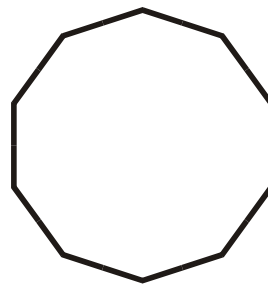
3.



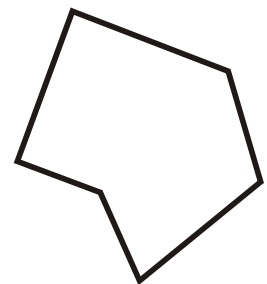
4.




5.



6.



7.



8.



9.

