




¡Hola!, ¿Cuál es tu nombre?


Curso:

..... Fecha:

¿Cuántos plátanos hay?



¿Cuántas peras hay?



1	2	3	4	5	6	7	8	9	10
11	12	13	14	15	16	17	18	19	20




¡Hola!, ¿Cuál es tu nombre?


Curso:

..... Fecha:

¿Cuántas peras hay?



¿Cuántos plátanos hay?



1	2	3	4	5	6	7	8	9	10
11	12	13	14	15	16	17	18	19	20

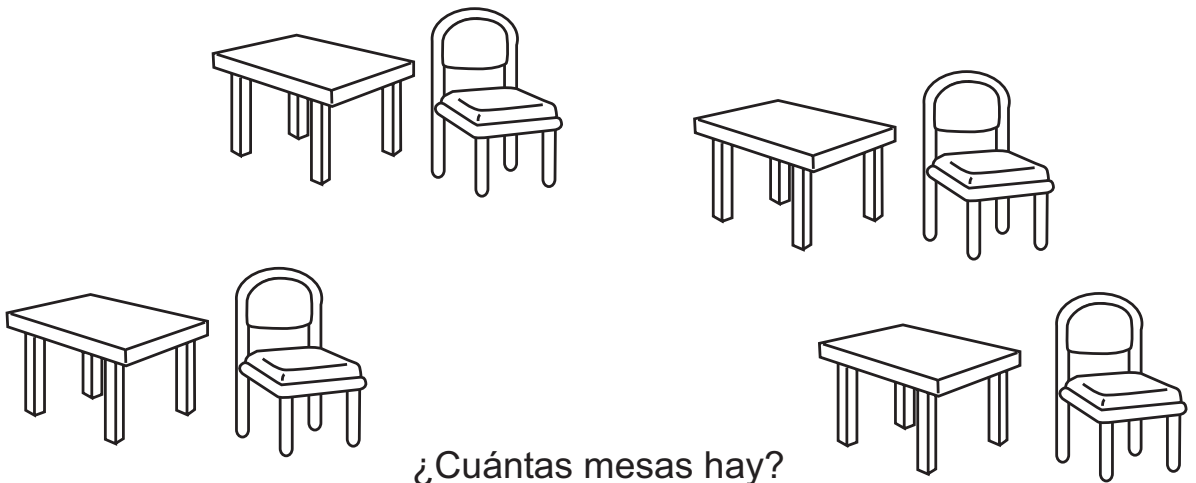


¡Hola!, ¿Cuál es tu nombre?


Curso:

..... Fecha:

¿Cuántas sillas hay?



¿Cuántas mesas hay?



1	2	3	4	5	6	7	8	9	10
11	12	13	14	15	16	17	18	19	20

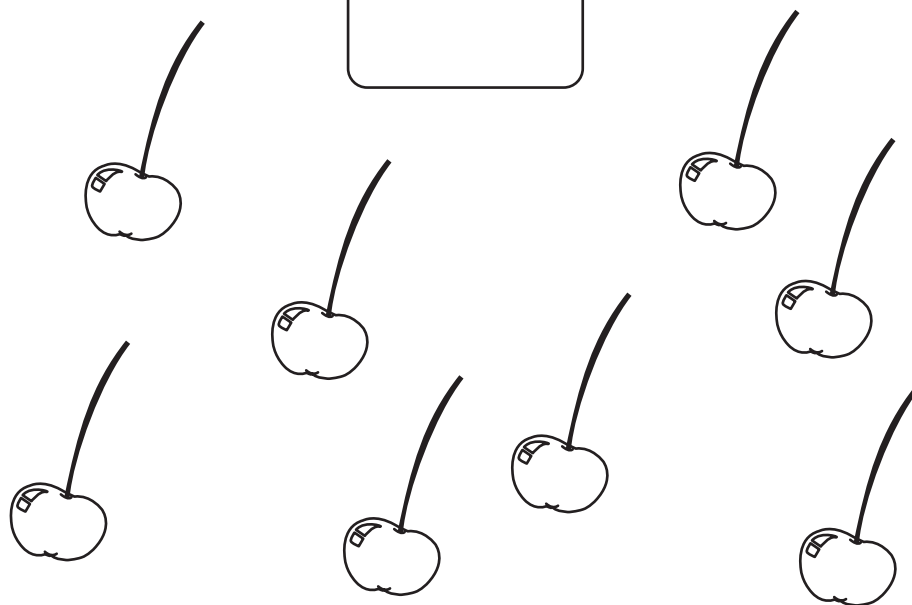


¡Hola!, ¿Cuál es tu nombre?


Curso:

..... Fecha:

¿Cuántas guindas hay?



¿Cuántos huemules hay?



"Contar y compara números hasta el 20."



¡Hola!, ¿Cuál es tu nombre?

Curso:

Fecha:

1) Observa los siguientes números.

17 **14** **19** **16**

Escribe el mayor

4) Escribe dos números mayores que 18.

2) Observa los siguientes números.

12 **12** **17** **19**

Escribe el menor

5) Escribe cinco números mayores que 6.

3) Observa los siguientes números. Escríbelos en orden de menor a mayor.

17 **11** **18** **16** **14**

"Contar y compara números hasta el 20."

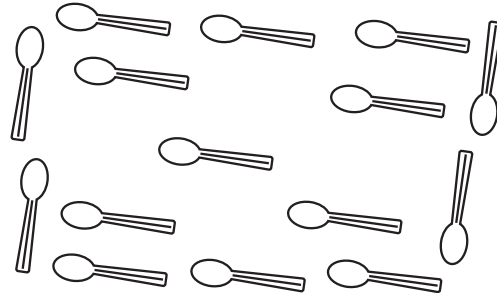


¡Hola!, ¿Cuál es tu nombre?

Curso:


Fecha:

¿Cuántas cucharas hay?



hay _____

¿Cuántos tenedores hay?



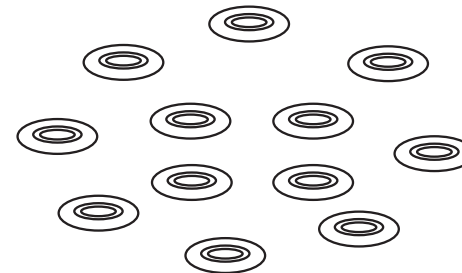
hay _____

¿Cuántas tazas hay?



hay _____

¿Cuántos platos hay?



hay _____

"Contar y compara números hasta el 20."



¡Hola!, ¿Cuál es tu nombre?

Curso:

Fecha:

¿Cuántas personas tienen gorro?



Hay _____ personas con gorro.

Hay _____ personas sin gorro.

¿Cuántos vasos chicos hay?



Hay _____ vasos chicos.

Hay _____ vasos grandes.


"Contar y compara números hasta el 20."




¡Hola!, ¿Cuál es tu nombre?

Curso:

Fecha:



Julio tiene estas pelotas.
Pedro tiene 2 pelotas más que Julio. Dibújalas.



Enrique tiene estas pelotas.
Alonso tiene 3 pelotas más que Enrique.
Dibújalas.

Escribe los siguientes números 6, 10, 4, 7, 9, 20, 13
en forma ordenada partiendo por el menor.

--	--	--	--	--	--	--

Escribe un número mayor que 8
pero menor que 10.

--

Escribe un número mayor que 18
pero menor que 20.

--

"Contar y compara números hasta el 20."





¡Hola!, ¿Cuál es tu nombre?




Curso:

Fecha:

¿Quién tiene más ampolletas?



¿Quién tiene más botones?






¿Cuál es tu nombre? _____

Curso: _____


Fecha: _____

1) Ordena de menor a mayor los números para llegar a la gallina.




5 - 7 - 10 - 2

○ ○ ○ ○




8 - 6 - 1 - 9

○ ○ ○ ○




2) Encierra el número en que están pensando nuestros amigos.




Es mayor que 8

5 6 12









Es menor que 7

5 6 8



























Es igual a

10 15 6

3) ¿Cuál es el número mayor?

			----->	
			----->	
			----->	
			----->	
			----->	
			----->	

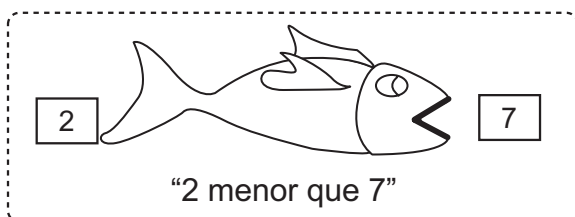

4) Completa la serie.



El pescadito tiene hambre y necesita comer bastante para estar sano,

¿Qué crees que va hacer?

Primero mira qué número es más grande y luego se pone en posición para.... ¡COMÉRSELO!




5) Escribe el puntaje obtenido en cada jugada, luego escribe el signo que corresponde. (>, < ó =)



_____ (menor que) _____


















¿Cuál es tu nombre?

Curso:

..... Fecha:

1) Dibuja la cantidad de palitos que indica el número del recuadro.


19



2) ¿Alcanzan los lápices para los cuadernos que hay atrás?
marca con una cruz la opción que corresponda.

SI


NO





Hay más.....

3) ¿Qué hay más, plátanos, manzanas o peras?



Hay.....plátanos.

Hay.....manzanas.

Hay.....peras.

4) ¿Qué hay más?. Marca con una X la opción que corresponda.



5) ¿Qué hay más?. Marca con una X la opción que corresponda.



6) Encierra en un círculo el número mayor y en un cuadrado el menor.

16

18

15

19

17

11

7) Encierra en un círculo el número mayor y en un cuadrado el menor.

18

17

15