

NOMBRE: _____

RECUERDA

- LA PRINCIPAL UNIDAD DE CAPACIDAD ES EL _____.
- SU SIMBOLO ES _____.
- 1 l = medios litros.
- 1 l = cuartos de litro.
- 1 l = centilitros.

1. Calcula:

4 litros = ____ cl ____ litros = 300 cl 18 litros = ____ cl

____ l = 7.800 cl 46 litros = ____ cl ____ l = 10.000 cl

2. Expresa en litros:

8 cuartos de litro = ____ l

6 medios litros = ____ l

16 cuartos de litro = ____ l


10 medios litros = ____ l

12 medios litros = ____ l

8 medios litros = ____ l

4 medios litros = ____ l

20 medios litros = ____ l


 ¿Cuántas botellas de un cuarto de litro se necesitarán para envasar 2 litros de leche?



2 LITROS



1/4 LITRO

 Compramos 4 latas de limonada de 1/4 de litro cada una.

¿Cuántos litros de limonada tenemos?



1/4 l



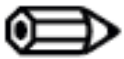
1/4 l



1/4 l



1/4 l



Con una botella de refresco llenamos 8 vasos de $\frac{1}{4}$ de litro cada uno.


¿ Cuántos litros de refresco tenía la botella ?



Tenemos un barril con 50 litros de vino y quitamos de él los litros suficientes para llenar 4 garrafas de 5 litros cada una. ¿ Cuántos litros quedarán en el barril ?



50 l



Calcula:

52.365 9

87.365 7

47.360 3