

NUMEROS HASTA EL 50

Escribe los números del 50 al 0

Rodea en cada columna el número más pequeño.

10	2	3	9	18
1	14	15	6	2
14	5	0	3	19
9	4	13	7	15
19	3	0	14	11

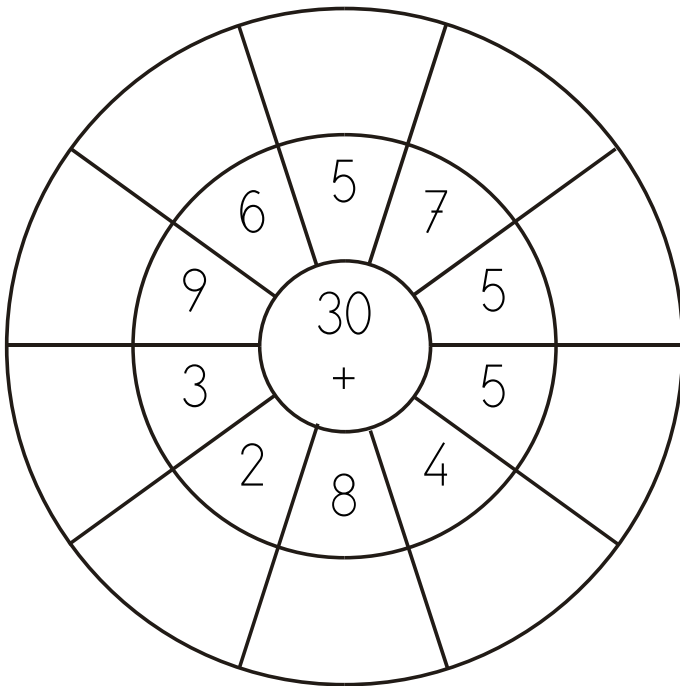
Escribe al anterior y el posterior de estos números

___ 9 ___	___ 6 ___	___ 10 ___	___ 4 ___
___ 21 ___	___ 2 ___	___ 20 ___	___ 8 ___

Continúa la serie de 2 en 2.

20 - 18 - 16 - _____

Cálculo mental. Completa el dibujo con la suma de las cantidades. Colorea los resultados impares.



Escribe todos los números impares del 1 al 20.

Continúa la serie de 5 en 5.

0 - 5 - 10 - _____

Continúa la serie de 10 en 10 hasta el 50.

10 - 20 - _____

Rodea los números más pequeños que 40

44- 6- 34- 23- 50- 13- 42- 10- 34- 7- 39

Rodea los números mayores que el 30

29- 4- 21- 11- 9- 40- 14- 34- 8- 0- 3- 30

Rodea en cada columna el número más pequeño.

19	6	11	17	17
12	14	4	18	20
11	7	10	15	11
6	14	17	20	5
12	9	5	12	1

Escribe hacia atrás desde el 40 al 30

Compara estos números. Añade: $>$, $<$ o $=$

8 ___ 15	11 ___ 9	29 ___ 27	11 ___ 17
17 ___ 20	18 ___ 5	11 ___ 15	11 ___ 11

Escribe cómo se leen estos números.

4

48

47

13

27

22

Continúa la serie de 3 en 3.


10- 14- 17-

Repasa con cuidado siguiendo los puntos.




Escribe los números impares del 30 al 50.

Pinta los peces que van hacia la DERECHA.



Pinta los animales que van hacia la IZQUIERDA



Pinta el dibujo de la derecha del cubo y el de la izquierda de la flor.

